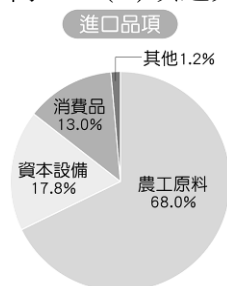


※評量範圍: 第二冊

一、單題

1. ()下列何者屬於人口遷移中的「暫時遷移」？ (A)思樂利用假期到紐西蘭旅遊 (B)小花從花蓮到臺北求學 (C)唐門到中國娶了上海姑娘回臺定居 (D)高雄人江蜜生下可愛的小寶寶。
2. ()□□正式成為「世界最美麗海灣」組織會員，此地在西元 2011 年，被「寂寞星球雜誌」評選為「全球非去不可的 10 大祕密島嶼」，而國際知名度大增。觀光局因而強力推出花火節、玄武岩地景、綠蠵龜洄游產卵等行銷推廣活動。請問：□□指的是何處？ (A)澎湖 (B)東沙 (C)金門 (D)馬祖。
3. ()臺灣西部三大區域的經濟發展受到各種因素影響，普遍較東部區域發達。請問：造成東部區域經濟發展較為落後的「自然因素」為何？ (A)開發較晚 (B)面積狹小 (C)地形阻隔 (D)降水豐沛。
4. ()西元 2002 年，臺灣因加入哪一個國際組織，使得臺灣農產品市場需向世界開放，也因此讓農業部門面臨許多競爭與挑戰？ (A)聯合國 (B)歐洲聯盟 (C)世界貿易組織 (D)世界衛生組織。
5. ()下列哪一個縣市為臺灣最主要的行政、金融、商業與政治中心？ (A)臺東縣 (B)臺南市 (C)臺中市 (D)臺北市。
6. ()都市和鄉村的區別，主要是依據居民的哪一項指標來區分？ (A)產業活動 (B)文化水準 (C)聚落面積 (D)教育程度。
7. ()近幾年來，臺灣地區人口成長速度趨緩，甚至呈現負成長，其主因為何？ (A)死亡率暴增 (B)出生率下降 (C)天災人禍不斷 (D)人口大量外移。
8. ()宜蘭縣住宅環境幽雅，在下列何者通車後，可能發展成臺北市的郊區？ (A)高速鐵路 (B)蘇花公路 (C)中橫公路 (D)蔣渭水高速公路。
9. ()附圖是某年臺灣主要進口貨物比例圖。由此圖可判斷臺灣工業發展最「不利」的條件為何？ (A)缺乏天然資源 (B)資金不足 (C)國內市場狹小 (D)工資昂貴。



10. ()下列何者不是導致臺灣本島各區域間差異加速擴大的主要原因？ (A)公共設施建設 (B)工商就業機會 (C)生活機能好壞 (D)水資源供應豐缺。
11. ()添寶出生時臺灣人口約 2,300 萬人，而該年出生率約 8‰，請問當添寶上小學就讀時，全國可能有多少小一新生？ (A)8 萬人 (B)18 萬人 (C)180 萬人 (D)500 萬人。

12. ()從臺灣運送雜誌、報紙到美國，最適宜的交通方式為何？ (A)公路 (B)鐵路 (C)空運 (D)管線輸送。
13. ()附圖的兩張照片為暑假時小乖和阿肥去南投埔里鎮旅遊時，所拍攝某地的遠景與近照。由照片中呈現的資訊判斷，其最可能是下列哪一個族群的宗教信仰？ (A)新住民 (B)原住民族 (C)閩南族群 (D)客家族群。



(圖一)



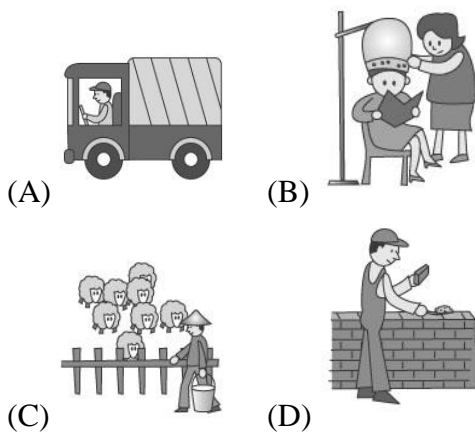
(圖二)

14. ()蛙蛙國某年總人口有兩億人，該年幼年人口占總人口 25%、壯年人口占 68%、老年人口占 7%。請問：該年該國的人口扶養比應為多少百分比？ (A)10.3 (B)32 (C)36.8 (D)47.1。
15. ()「這個縣是臺灣本島唯一一個不靠海的縣，雖無法從海洋獲取漁業資源，但縣境內有風光明媚的日月潭，以及臺灣地理中心碑、埔里酒廠、集集車站等著名景點，極利發展觀光業。」請問：上文所描述的最可能是下列哪一個縣市？ (A)宜蘭縣 (B)苗栗縣 (C)臺中市 (D)南投縣。
16. ()傳統商品的交易方式主要為批發、零售，兩者最大的差別在於下列何種因素？ (A)商品品質 (B)商品數量 (C)店面大小 (D)雇員人數。
17. ()就所在的地理位置而言，下列哪一個工業區並非位於臺灣西部？ (A)新竹科學園區 (B)中科臺中園區 (C)南科臺南園區 (D)和平水泥工業區。
18. ()(甲)汽車組裝業者 (乙)蔬菜種植者 (丙)麵包烘焙業者 (丁)便利商店店員 (戊)花卉栽培者。上述產業從業人員中，哪些屬於第一級產業？ (A)甲丙 (B)乙戊 (C)丙丁 (D)丁戊。
19. ()下列臺灣農業經營的特性中，何者是臺灣加入 WTO 後，對農業發展產生最大衝擊的主因？ (A)農村勞力外流 (B)生產成本較高 (C)稻米生產過剩 (D)農產品價格偏低。
20. ()臺灣區域間的差異愈來愈明顯，與下列哪一項因素較無關？ (A)交通建設 (B)產業發展 (C)人口密度 (D)土地面積。
21. ()民國 55 年底的臺灣人口數約 1,300 萬人，至民國 109 年底已近 2,400 萬人。這種某地區在不同時間內人口數量的變動現象，統稱為下列何者？ (A)人口分布 (B)人口遷移 (C)人口密度 (D)人口成長。
22. ()小新的爸爸是證券公司總經理，媽媽是紡織廠的員工，爺爺是農場主人，大伯是超市經理。請問：小新的家族成員中，哪幾位是從事第三級產業？ (A)爸爸、爺爺 (B)媽媽、爺爺 (C)爸爸、大伯 (D)媽媽、大伯。

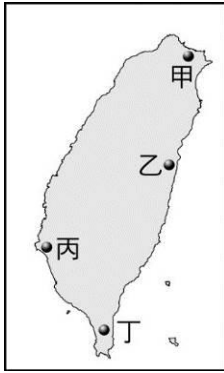
23. ()附圖為臺灣夜間衛星影像圖，圖中愈亮的地區，表示其燈光愈多。請問：臺灣燈光集中的地區，與下列哪些因素的關係最為密切？(甲)人口分布 (乙)地形 (丙)經濟發展程度 (丁)氣候 (A)甲乙丙 (B)甲乙丁 (C)甲丙丁 (D)乙丙丁。



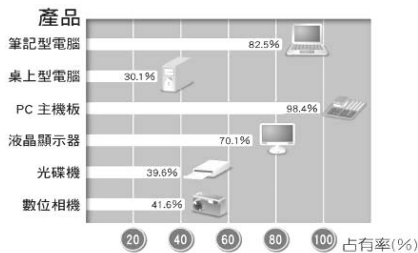
24. ()「人口密度」可以用來表示人口的何種現象？(A)人口的扶養比 (B)人口總數量 (C)人口的疏密程度 (D)人口的自然增加率。
25. ()阿壯想針對臺灣的重工業進行採訪分析報導，他應該先從臺灣的哪一個地區著手準備訪問最適合？(A)中部 (B)南部 (C)東部 (D)北部。
26. ()關於臺灣的空運交通運輸，國內機場主要分布在哪一些地區？(甲)大城市 (乙)工業區 (丙)山區 (丁)離島 (A)甲乙 (B)甲丙 (C)甲丁 (D)乙丁。
27. ()下列何者不是臺灣目前主要的工業發展地區？(A)臺北 (B)桃園 (C)新竹 (D)屏東。
28. ()下列為四種不同的工作，請問哪一種工作是將第一級產業所生產的產品加工製造的產業？



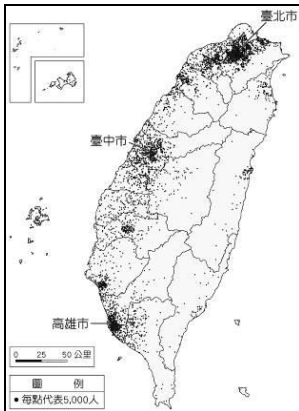
29. ()「沿海多沼澤、潟湖，養殖漁業特別發達；是臺灣最大的海岸溼地，更是黑面琵鷺冬季的樂園。」請問：上文描述的是附圖中哪一個地區的海岸景觀？(A)甲 (B)乙 (C)丙 (D)丁。



30. ()某地旅遊報導指出：「這裡不只有風獅爺，還有處處林立的傳統聚落。這裡舉目皆是臺灣本島難得一見的百年古厝，閩南建築風格；燕尾式、馬鞍式的屋簷，滿據天空。」上文所指的地區應為下列何處？ (A)新竹 (B)蘭嶼 (C)臺南 (D)金門。
31. ()臺灣早期加工出口區的設置，以及近年來的科學園區成立，均與下列哪項要素密切相關？ (A)技術優良 (B)勞力低廉 (C)接近市場 (D)政府政策。
32. ()傳統工業主要可分為輕工業和重工業，其分類依據為何？ (A)產品重量 (B)原料重量 (C)技術高低 (D)產值高低。
33. ()附圖所示為臺灣主要資訊硬體產品在全球的占有率，依圖中資料判斷，此為臺灣哪一個階段所發展的主要產品類型？ (A)民國四十年代 (B)民國五十年代 (C)民國六十年代 (D)民國七十年代至今。



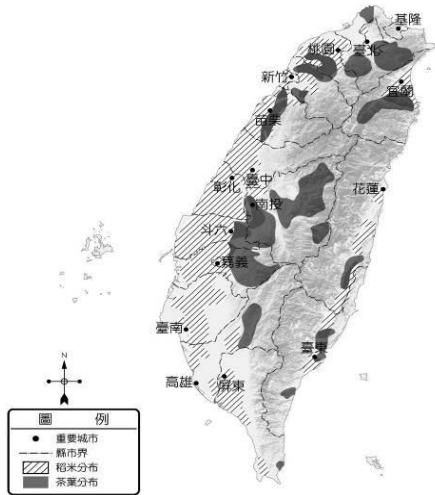
34. ()附圖為臺灣各區域的人口分布。圖中反映出臺灣各地區人口疏密差距甚大，其中以哪一地區的人口分布最為集中？ (A)北部 (B)中部 (C)東部 (D)南部。



35. ()附表為四個國家的出生率與死亡率資料，哪一個國家的自然增加率較高？ (A)甲 (B)乙 (C)丙 (D)丁。

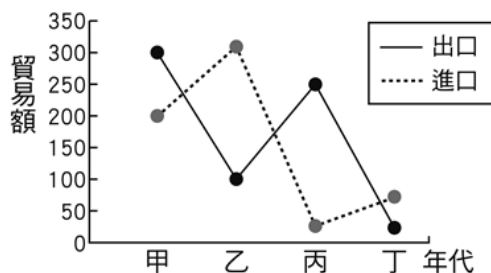
國家	甲	乙	丙	丁
出生率(‰)	32	51	18	10
死亡率(‰)	10	20	9	14

36. ()下列哪一個縣市境內目前沒有航空站的設立？ (A)臺中市 (B)南投縣 (C)澎湖縣 (D)花蓮縣。
37. ()附圖為臺灣稻米、茶葉的主要產地分布圖。請問：稻米與茶葉分布地區不同，主要是受到下列哪一項因素的影響？ (A)降水量多寡 (B)地形差異 (C)交通便利性 (D)生長季長短。



38. ()下列選項為阿甲一天中會使用到的工業產品，何者屬於高科技工業的產品？ (A)制服外套 (B)品牌球鞋 (C)智慧型手機 (D)捷安特腳踏車。
39. ()區域發展程度較低的區域，通常具備下列何項特色？ (A)居民的平均可支配所得較高 (B)保留較多的自然資源 (C)居住空間狹小且污染嚴重 (D)享有較佳的教育與醫療資源。
40. ()附圖為神奇國四個時期的貿易總額統計圖。請問：哪個時期，神奇國累積的外匯最多？ (A)甲 (B)乙 (C)丙 (D)丁。

單位：億美元



41. ()臺中市的人口密度較雲林縣高出許多，其主要原因為何？ (A)氣候較為溫暖 (B)盆地較廣大 (C)工作機會較多 (D)生育率較高。
42. ()交通分為通訊及運輸兩大類，下列哪一些屬於通訊的工具？ (甲)郵政 (乙)管線 (丙)通訊衛星 (丁)網路 (A)甲乙丙 (B)甲乙丁 (C)甲丙丁 (D)乙丙丁。
43. ()臺灣的工業區大多集中在西部，電子、資訊業主要分布在北部，而加工出口區及重工

業主要分布在南部。這種工業聚集現象的形成，與下列何者關係最密切？ (A)地形 (B)動力 (C)原料 (D)政策。

44. ()「俄羅斯的人口結構一直處於失衡的狀態，截至西元 2009 年，女性比男性整整多出 1,000 萬人，且有擴大的趨勢。俄羅斯為世界聞名的『美女產區』，然而該國女性的天生麗質卻沒有辦法得到本國男人的欣賞。在俄羅斯的一些農村地區，甚至出現 5 個女孩追求一個男孩的窘境。俄羅斯性別比例的失調情況，源自幾個原因：一是二戰時期犧牲的主要是男性；二是俄羅斯女性壽命比男性長；三是男性愛酗酒，意外死亡率遠遠高於女性。在俄羅斯，單身女性人口還有逐漸增大的趨勢。」依上文所述可知，下列何者最可能是該年俄羅斯的性別比？ (A)86 (B)98 (C)101 (D)112。
45. ()討論人口遷移時，「促使當地人口向外移出的不利條件」統稱為何？ (A)推力 (B)拉力 (C)移入率 (D)移出率。
46. ()一九六〇年代，政府於高雄市首先設立加工出口區，一九七〇年代又選定在此發展重化工業。高雄之所以成為政府設立加工出口區和重化工業的地點，皆與其擁有下列何項優越條件有關？ (A)交通便利 (B)動力充沛 (C)資金充足 (D)市場廣大。
47. ()臺灣近年來積極推動科學工業園區，以帶動國家經濟進一步的發展。請問：目前臺灣哪一地區還沒有設立科學園區？ (A)北部 (B)中部 (C)南部 (D)東部。
48. ()近來可在一般超市或賣場的產品上發現附圖的標章，此為臺灣常見之清真認證標章。清真認證起源於伊斯蘭教法，針對穆斯林日常生活食用或碰觸身體的產品，必須符合伊斯蘭教義，即為「清真(Halal)」，避免碰觸不潔之物，如豬、酒精。請問：臺灣近來出現這些產品的原因與下列何者最相關？ (A)性別比降至 100 以下 (B)國民教育水準提升 (C)保留原住民文化傳統 (D)新住民移入人數提高。



49. ()民國 107 年，臺灣的老年人口比例已突破 14%，主要原因為何？ (甲)醫療衛生進步 (乙)族群組成多元 (丙)死亡率節節上升 (丁)平均壽命延長 (A)甲乙 (B)甲丁 (C)乙丙 (D)乙丁。
50. ()雲林縣於民國 109 年，社會增加率為-2.01%，代表外移人口多，造成此現象的主要原因為何？ (A)都市就業機會較多 (B)農村生產力提高 (C)政府提倡節育政策 (D)社會動盪不安。
51. ()臺灣接受美國經濟援助後，民眾曾以美援的麵粉袋來縫製褲子。請問：當時美國之所以援助臺灣，與下列何事有關？ (A)中華民國政府準備播遷來臺 (B)韓戰爆發 (C)美國制訂《中美共同防禦條約》 (D)臺灣發生二二八事件。
52. ()日治時期，臺灣原住民為反抗總督府掠奪山地資源和剝削勞力，起而抵抗日本。結果日本政府對原住民展開大規模的血腥鎮壓事件。這是指哪一個事件？ (A)朱一貴事件 (B)戴


潮春事件 (C)西來庵事件 (D)霧社事件。

53. ()「臺灣文化協會」在西元 1923 年舉辦的演講只有 36 場，第二年增加為 132 場，啟迪民智的影響力與日俱增。請問：下列何人與這個協會舉辦的活動有很大的關係？ (A)丘逢甲 (B)余清芳 (C)唐景崧 (D)蔣渭水。
54. ()清廷因為哪一場戰役的失敗，進而將臺灣割讓給日本？ (A)牡丹社事件 (B)清法戰爭 (C)甲午戰爭 (D)西來庵事件。
55. ()民國六十年代，我政府開始推動「十大建設」，是為了要因應當時的何種事件？ (A)韓戰 (B)八二三炮戰 (C)國際能源危機 (D)退出聯合國。
56. ()當時，中華民國代表團團長周書楷見大勢已去，於是宣布「參與頓巴敦橡園會談，並以召集國之一員發起金山聯合國制憲會議，而成為聯合國創始會員國及安全理事會常任理事國之一的中華民國，決定退出他自己所參與締造的聯合國。」請問：上述是哪一年所發生的事情？ (A)民國 10 年 (B)民國 36 年 (C)民國 60 年 (D)民國 76 年。
57. ()日治時期，臺灣糖業的利潤吸引不少日資與新技術的進入。請問：在臺灣設立的第一座新式糖廠為何？ (A)月眉糖廠 (B)花蓮糖廠 (C)虎尾糖廠 (D)橋仔頭糖廠。
58. ()日治初期，臺灣的財政常需要日本國庫撥款補助，因此曾有人提議將臺灣以一億日元賣給法國。後來總督府實行何種措施，使臺灣財政狀況大為改善，接受日本財政補助的情況逐年減少？ (A)提高貿易關稅 (B)統一各式貨幣 (C)推行專賣制度 (D)開放臺日貿易
59. ()中華民國政府於官方成立什麼機構，專司處理與對岸相關的事務？ (A)陸委會 (B)海基會 (C)海協會 (D)國臺辦。
60. ()臺灣在民國五十年代時，書籍、報刊等出版品的內容均須經過審查，這是因為受到下列哪一個法令的約束？ (A)《戒嚴令》 (B)《解嚴令》 (C)《中華民國憲法》 (D)《動員戡亂時期臨時條款》。
61. ()下列何者是中華民國政府遷臺後，建設臺灣的政策中最晚實行者？ (A)設立新竹科學工業園區 (B)發行新臺幣 (C)土地改革 (D)十大建設。
62. ()在臺灣文學的發展中，原住民亦占有一席之地，如泰雅族的瓦歷斯•諾幹(Walis Nokan)、達悟族的夏曼•藍波安(Syaman Rapongan)，這些原住民作家也都另有漢名。請問：身為原住民，他們為何擁有漢名？ (A)避免被誤認成外來族群 (B)為了與漢人通婚 (C)不願被日本同化 (D)政府推行「改漢姓」政策。
63. ()日治時期，某起事件中被逮捕的人，提到他們曾聽過以下宣傳：「臺灣南部山區已經誕生了一位具有皇帝相的人，這個皇帝有種種特異功能，他持有的寶劍，只要出鞘三分，就可以殺死三萬個日人……」。根據上文推論，此事件的主使者應為下列何者？ (A)丘逢甲 (B)劉永福 (C)余清芳 (D)唐景崧。
64. ()臺灣總督府為了掠奪山地的樟腦與林木資源，因而強迫原住民服勞役，又以軍事鎮壓的方式來對付不服從的部落，終於在西元 1930 年爆發哪一個事件？ (A)霧社事件 (B)西來庵事件 (C)甲午戰爭 (D)中日戰爭。

65. ()一九三〇年代以來，日本在臺灣發展了許多經濟工業化設施，卻在西元 1944 年遭到哪一個國家對臺灣進行轟炸之故而損害嚴重？ (A)中國 (B)美國 (C)俄國 (D)英國。
66. ()附圖是某一雜誌的封面，主題是國父孫中山先生戴上口罩，標題寫著「掀起你的口罩來」。請問：這是哪一族群發起的社會運動？ (A)客家人 (B)閩南人 (C)新住民 (D)原住民。



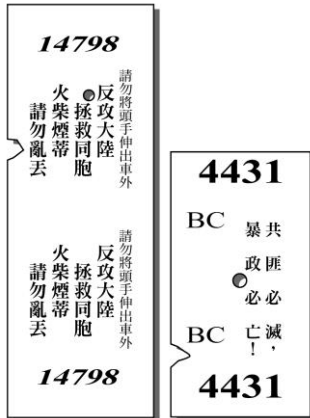
67. ()臺灣文化協會與推動臺灣議會設置請願運動的成員重疊甚多，是因為當時臺灣知識分子主要的訴求為何？ (A)革命推翻日本政權 (B)政治請願爭取權利 (C)促使日本文化扎根 (D)經濟上擺脫殖民剝削。
68. ()臺灣因為社會的變遷，有許多來自外國的國際移工，以及因婚姻關係來臺的外籍配偶，他們對臺灣文化所產生的影響，我們應該以怎樣的態度加以理解？ (A)嚴重干擾臺灣本土的純粹性，所以應該排除他們的文化進入臺灣 (B)他們的文化豐富臺灣本來的內涵，使文化更加多元繽紛 (C)外來文化屬於弱勢，臺灣應該明訂規範加以保護 (D)外來人士嚴重影響臺灣經濟水準，所以應該減少來臺的人數。
69. ()附圖的漫畫，描述日治時期蔗農的心酸，主要是因為當時日資製糖會社擁有特權，使得臺灣蔗農一直處於被壓榨卻又無可奈何的狀況。請問：上述日資製糖會社主要具有何種特權？ (A)可決定甘蔗輸出地區 (B)可決定甘蔗的品種 (C)可決定種植甘蔗的地區 (D)可決定收購甘蔗的價格。



70. ()民國七十年代末期，客家、勞工、婦女、原住民族等群體，紛紛透過社會運動爭取權益。這些群體能夠走上街頭表達訴求，是在哪一個政策推行之後？
 (A)推行土地改革
 (B)推動十大建設
 (C)宣布解除戒嚴
 (D)推動農山漁村轉型
71. ()日治時代，總督府為了配合日本的經濟發展，積極推動臺灣基礎建設，完成眾多交通

設施。請問：下列何者是當時所興建的交通建設？ (A)購買輪船往來於臺灣與中國大陸之間 (B)興建國際與國內機場 (C)基隆、高雄兩港的整建 (D)環島鐵路的興建。

72. ()臺灣光復初期，全島出現哪件反政府行動與省籍衝突的重大事件，對於臺灣政治發展、社會融合等產生不良的影響？ (A)二二八事件 (B)成立臺灣民眾黨 (C)國共內戰。
73. ()臺南市有「永福國小」和「永福路」，以紀念劉永福在臺灣歷史留下什麼事蹟？ (A)領導抗日行動 (B)建造水利工程 (C)督建縱貫鐵路 (D)奠定漢人典章制度。
74. ()家衛在《臺灣鐵道史》書中，找到一張臺灣早期火車票的圖片。請問：這應是哪一時期的車票？ (A)清帝國時期 (B)日治時期 (C)戒嚴時期 (D)解嚴時期。



75. ()日治時期，臺灣被當作經濟殖民地，但是當時嘉南平原水資源貧乏，農民常逢水旱災，看天吃飯的苦境亟需改善，於是促成興建兼具排水、灌溉、疏洪功能的「嘉南大圳」水利工程決策。請問：「嘉南大圳」的設計監造者是誰？ (A)丘逢甲 (B)劉永福 (C)八田與一 (D)莫那魯道。
76. ()「第一憨，種ㄟㄟ予會社磅」這句話，意謂日治時期臺灣人種植這項作物時，遭受到日本會社的剝削，而ㄟㄟ指的是下列何者？ (A)甘蔗 (B)稻米 (C)茶葉 (D)番薯。
77. ()民國六十年代末期，臺灣開始面臨工資、土地成本提高與國際競爭的壓力。政府為了維持出口成長，轉向鼓勵發展高科技產業。請問：下列何者即是當時政府為了發展高科技產業而設立？ (A)新竹科學園區 (B)臺南科技園區 (C)南港軟體園區 (D)內湖科技園區。
78. ()戶籍資料是政府管理行政的重要依據，臺灣在哪一個時期進行了首次科學性的戶口調查，並在日後成為定期慣例，有助於政府的統治和管理？ (A)荷蘭在臺時期 (B)鄭氏在臺時期 (C)清帝國統治時期 (D)日本帝國統治時期。
79. ()日本殖民臺灣的統治策略主要分為三個階段，其中從西元 1937 年中日戰爭爆發後，至西元 1945 年第二次世界大戰結束，這一時期日本對臺灣的主要治理政策為何？ (A)無方針主義 (B)內地延長主義 (C)皇民化運動 (D)武力鎮壓。
80. ()日本殖民統治不久，總督府確立「工業日本、農業臺灣」的基本經濟政策，將臺灣當作哪兩種民生重要作物的生產地？ (A)茶和樟腦 (B)茶和蔗糖 (C)稻米和茶 (D)稻米和蔗糖。
81. ()臺灣文化協會與推動臺灣議會設置請願運動的成員重疊甚多，是因為當時臺灣知識分子主要的訴求為何？

- (A)革命推翻日本政權
- (B)政治請願爭取權利
- (C)促使日本文化扎根
- (D)經濟上採不合作運動

82. ()西元 1930 年嘉南大圳完工，灌溉面積達 15 萬甲，是極具規模的現代化灌溉系統。請問：此一工程的籌建與下列何人有關？ (A)劉銘傳 (B)沈葆楨 (C)邵友濂 (D)八田與一。
83. ()阿學閱讀某位歷史人物的傳記如下：「潘文杰，瑯嶠十八番社大頭目，清帝國時期曾經和美國領事共同處理美國船隻擱淺事件，更曾鼎力協助清政府建造恆春古城，由官府賜姓『潘』褒獎他。西元 1895 年臺灣激烈變動之際，他決議向日本政府釋出善意，負責協助勸降各部落，西元 1896 年他說服地主捐獻土地，在總督府的幫助下成立第一所原住民學校『恆春國語傳習所豬勝東分教場』，被總督府賜予紳章(精英獲頒榮譽象徵)，西元 1901 年被任命為恆春廳參事。」透過上述內容，阿學可以如何理解清、日兩代政府與潘文杰的關係？ (A)無論是清帝國或日本都使用安撫方式拉攏地方精英 (B)潘文杰幫助清帝國又幫助日本政府是標準的牆頭草 (C)臺灣總督府設立國語傳習所是一種武力征服的手段 (D)潘文杰在時代的變動中一無所知只能接受他人文化。
84. ()一塊土地若是產權不明確，在買賣上就會產生麻煩，人們將很難透過一般買賣方式取得大片土地，這意味著想藉由大面積機械化耕作來壓低成本的大公司將不願意投資。臺灣總督府既然想要藉由吸引資本家投資，以增加臺灣的經濟收入，確立全島的產權便是他們的首要之務。請問：總督府推行了什麼政策來確立產權？ (A)定期人口普查 (B)土地與林野調查 (C)島內民眾財產調查 (D)統一貨幣與度量衡。
85. ()有一些老歌的內容可以反映當時臺灣社會所呈現的景況，如閩南語歌曲「孤女的願望」，其歌詞大意描寫一個鄉村女孩想到大都市生活的經過：「請借問播田的田庄阿伯啊，人塊講(人在講)繁華都市，臺北對叨去(往哪去).....阮想要去都市做著女工度日子，也通來安慰自己心內的稀微(孤寂).....。」請問：這首老歌的內容，應該是以下列哪一項臺灣歷史上曾經發生的史事為背景？ (A)工業發展，農村人口外流 (B)光復初期失業嚴重 (C)世界性經濟不景氣 (D)中國大陸移民來臺思鄉情切。
86. ()臺灣民間成立什麼機構，受政府委託處理兩岸事務？ (A)陸委會 (B)海基會 (C)海協會 (D)國臺辦。
87. ()西元 1934 年，日本推動臺灣的工業化措施，下列何項建設的完工使得工業動力大幅增加？ (A)嘉南大圳 (B)翡翠水庫 (C)石門水庫 (D)日月潭水力發電所。
88. ()日本戰敗後，臺灣終於脫離日本的統治，由中華民國政府接收；而 10 月 25 日中國在臺灣接受日本投降日就被訂為哪一個節日？ (A)臺灣光復節 (B)國慶日 (C)青年節 (D)行憲紀念日。
89. ()民國六十年代，因能源危機衝擊臺灣的商貿經濟，政府轉而推動十大建設，並加強重工業發展，此時臺灣也邁入重要的產業轉型。請問：下列何者較符合當時臺灣的背景？ (A)政府主張農業培養工業，減少對外的產品進口 (B)由於社會工資及國際競爭增加，政府乃設立科學園區，欲發展高科技產業 (C)政府希望能減少貿易限制，乃積極參與國際組織，例如 APEC 與 WTO 等組織 (D)由於政府施政重心轉為工業發展，導致農村人口外移、從業人口老

化，地方經濟發展困難。

90. ()日治時期總督府積極推動臺灣的基礎建設，下列何者並不是其主要目的？ (A)奠定統治基礎 (B)造福臺灣民眾 (C)供應日本基礎物資 (D)建立殖民經濟體系。
91. ()現今臺北市陽明山上有美式宿舍群，建築年代悠久，是早年供來臺美國人及其眷屬居住。關於該宿舍群的設置背景，下列敘述何者正確？ (A)民國 68 年美國與我國建交，故美軍特意興建宿舍群紀念雙方友誼 (B)民國五十年代美國文化流行，臺灣政府特意建設 (C)韓戰爆發後，美國軍事顧問團進駐臺灣，故規畫宿舍群安置相關人員 (D)民國五十年代為開採陽明山資源，故於山上設置宿舍群，方便來臺美國人工作。
92. ()80 歲的添丁阿伯講述年輕時的往事說：「那時候以內銷為主的產業結構面臨發展的瓶頸，政府推動政策改善投資環境，希望能協助拓展外銷市場，同時也利用各項優惠措施的誘因，吸引外資前來臺灣投資設廠，一時間中小企業林立。因為家裡有那麼多嗷嗷待哺的弟妹，我看著報紙積極求職，心裡盼望趁著這波企業發展，能找到穩定的工作。」添丁阿伯當時所看的報紙最可能出現哪一則求職廣告標題？
(A)徵的就是你，十大建設各項工程人才職缺需求
(B)投資環境極佳，外移到東南亞的臺商缺你不可
(C)職缺充沛，高雄加工出口區應徵大量從業人員
(D)求才若渴，內湖南港軟體科技園區急徵工程師。
93. ()一九三〇年代某重大事件過後，總督府順理成章的讓他們「集團移住」到山下距離舊部落五十、六十公里遠的地方，海拔從一千多公尺降至四百多公尺，並輔導他們轉作水田，改變他們原本生活方式，影響原本部落組織生態。他們多數的親友在這場悲慘事件中死亡，政府在事件中因採取先進武器鎮壓，飽受國內外輿論批評。這場事件也使總督府重新檢討理蕃政策，希望不讓無理的勞力剝削及蕃地警察過度使役，再度成為反抗導火線。請問：以上描述的是哪一事件？ (A)霧社事件 (B)甲午戰爭 (C)牡丹社事件 (D)西來庵事件。
94. ()為了有效監控各地，並且澈底防止與撲滅全臺各地的抗日勢力，總督府利用哪一類人員嚴密監控地方？ (A)軍人 (B)警察 (C)郵差 (D)教師。
95. ()有學者指出：「日本對於治理臺灣，進行許多現代化的科學調查工作，其中一項從西元 1905 年即展開進行史上第一次的整體調查，之後每隔一段時間又會重新調查一次，為統治臺灣奠定了良好的基礎。」請問：上述是指哪一項調查？ (A)土地調查 (B)林野調查 (C)戶口調查 (D)舊慣調查。
96. ()「日月潭水力電氣工事」又稱為「日月潭水力發電工程」，是一九三〇年代臺灣最大的水力發電計畫，於西元 1934 年完工，此項發電工程可視為臺灣產業轉型的里程碑。請問：此時的臺灣社會處於什麼階段？ (A)原始部落 (B)農業社會邁向工業社會的過渡階段 (C)工業社會 (D)資訊社會。
97. ()政府在哪一個時期連續推動多項經濟建設計畫，同時為了促進國內經濟發展，實行「進口替代」政策？ (A)民國四十年代 (B)民國五十年代 (C)民國六十年代 (D)民國七十年代。
98. ()中華民國政府接收臺灣後，以何人為臺灣的最高長官，地位權力有如日治時期的臺灣

總督？ (A)國防部長 (B)行政長官 (C)行政院長 (D)經濟部長。

99. ()有關目前臺灣的經濟發展方向，下列敘述何者錯誤？ (A)加速發展高科技產業 (B)推動貿易自由化與國際化 (C)強化勞力密集工業，以降低失業率 (D)提升臺灣在世界經濟體系中的地位。
100. ()一九二〇年代起，臺灣人民從武裝抗日，轉變為從事合法的社會運動。請問：這些合法社會運動的主要訴求是什麼？ (A)倡導臺灣獨立 (B)要求參加中日戰爭 (C)改革殖民政治 (D)呼應皇民化政策。
101. ()為了透過自然教育、棲地保育與守護行動，推動臺灣及全球荒野保護的工作，以維護自然環境，西元 1995 年自然生態攝影家徐仁修與幾位志同道合的夥伴共同組成了「荒野保護協會」，一起為了保護自然生態之美而努力。關於此志願結社的成立，下列敘述何者正確？ (A)成立目的在於情感交流 (B)成員欲達成共同的目標 (C)參與者並不是基於自願 (D)在任務達成前無法退出。
102. ()過去臺灣傳統社會觀念認為工作是生活的重心；隨著經濟的發展，人們開始思考如何提升生活品質，也愈來愈重視休閒生活。上述屬於哪個層次的社會變遷？ (A)器物 (B)制度 (C)理念 (D)習慣。
103. ()北歐地區的國家，因為氣候的關係，建造房子時，會將房屋設計成尖塔造型；東南亞國家為了擋避風雨侵襲，遮蔽炎陽照射，發展出騎樓建築。各地建築的特色展現出文化的何種特性？ (A)普遍性 (B)差異性 (C)累積性 (D)制約性。
104. ()政府對低收入戶、中低收入戶提供生活補助金，是下列哪項社會福利政策的落實？ (A)福利服務 (B)社會保險 (C)社會救助 (D)醫療保健。
105. ()小茜和好友平時除了用電話聯絡外，最常用的還是網路通訊軟體 LINE，不但省錢而且方便。上述情形最能說明社會變遷中哪個層次的改變？ (A)風俗習慣 (B)器物發明 (C)社會制度 (D)價值觀念。
106. ()國中生可以參與學校或社區的各種團體活動，培養下列何種志願服務的精神？ (A)吃得苦中苦，方為人上人 (B)天下無難事，只怕有心人 (C)人人為我，我為人人 (D)知己知彼，百戰百勝。
107. ()下列何者可以讓人領略民眾的虔誠與地方特有的祭祀文化？ (A)異國美食 (B)美術展覽 (C)宗教祭典 (D)球賽運動。
108. ☞☞()是指於公共場所或公眾得出入之場所舉行會議、演說或其他聚眾活動。上述☞☞指的是下列何者？ (A)集會 (B)結社 (C)政黨 (D)志工。
109. ()《道路交通管理處罰條例》規定，坐在汽車後座也必須繫安全帶，大部分民眾表示：「覺得沒必要，但警察會抓就會遵守規定繫上安全帶。」依此判斷，民眾雖不認同但還是會遵守該項規定的原因為何？ (A)公權力的介入 (B)神明的指示 (C)良心的譴責 (D)超自然力量發威。
110. ()為避免交通事故發生，制定相關法規固然重要，但最重要的還是用路人的守法觀念，如行人穿越道路應走行人穿越道，遵守行人號誌指示；駕駛人應遵守號誌指示、禮讓行人及機慢車等。上文旨在強調用路人的哪一種公民德性？ (A)遵守法律 (B)捍衛正義 (C)理性思考

(D)積極參與。

111. ()在臺灣師範大學國語教學中心附近，時常可遇見法國、英國、印尼、馬拉威等國的留學生，其穿著習慣、日常禮儀多少與我們有些不同。我們不應該以何種態度看待他們？ (A)尊重 (B)偏見 (C)欣賞 (D)包容。

112. ()國有國法，家有家規，社會當中也有該遵行的規則，下列關於社會規範的敘述，何者正確？ (A)透過立法機關的制定才有公信力 (B)是從古至今恆久不變的行為準則 (C)班級公約與社會規範的概念相似 (D)其存在會阻礙社會的發展。

113. ()下圖為宇欣整理的上課示例——

☆高鐵通行後，臺灣南北
兩地成為一日生活圈。
☆智慧型手機普及後，訊
息傳遞更加方便。
☆網路銀行的發展，民眾
轉帳繳費更便利。
☆電動車的使用，有助於
環保概念的落實。

上述例子主要彰顯何種概念？ (A)科技發展會加速社會變遷 (B)社會變遷會製造環境汙染 (C)器物變遷會帶動制度變遷 (D)理念變遷比器物變遷快速。

114. ()「忠臣必出自孝子之門。」由這句話可以看出，何處是個人最早接觸的社會組織、學習融入社會的起點？ (A)家庭 (B)學校 (C)社區 (D)幼兒園。

115. ()關於公民德性的敘述，下列哪一位同學的說法最為適當？ (A)曉吉：僅公民有履行的義務 (B)阿勇：需社會成員共同實踐 (C)嘉玲：可讓政府更關心人民 (D)阿章：學生應無法加以落實。

116. ()我們可以利用課餘的時間多參與團體事務，藉以培養服務社會的精神，為社會貢獻一分心力，也可以透過參與活動的過程，拓展自我的視野。下列哪些是適合國中生參與的團體事務？ (甲)參加愛心義賣活動 (乙)參加學校社團活動 (丙)投入競選活動 (丁)加入幫派組織 (A)甲乙 (B)甲丙 (C)乙丁 (D)丙丁。

117. ()希臘雅典城邦在饑荒時，主動發放穀糧給人民；也會照顧因戰爭殘廢或失去雙親的孤兒，以扶助生活困頓的民眾。上述做法展現了下列何種觀念？ (A)社會規範 (B)社會文化 (C)社會福利 (D)社會變遷。

118. ()我國人民有集會及結社之自由，主要是基於下列何者的規定？ (A)《組織犯罪防制條例》 (B)《性別平等教育法》 (C)《兒童權利公約》 (D)《中華民國憲法》。

119. ()為了讓社會福利措施發揮最大的效益，下列哪項做法是正確的？ (A)民間團體積極參與社會福利的工作 (B)政府制訂福利政策應一視同仁，不能優待弱勢群體 (C)交由政府獨自處理即可 (D)民間團體應避免介入協助。

120. ()獨居老人、身心障礙者、罹患特殊疾病者等，在租房時容易遭社會歧視排擠，政府因

而提供出租社會住宅，解決其居住問題。上述措施屬於何項社會福利？ (A)社會津貼 (B)社會保險 (C)社會住宅 (D)國民就業。

121. ()民間團體指控政府沒有完整揭露進口豬肉相關訊息，損害民眾健康，要求監察院介入調查。上述行動是從哪個方向來促進公平正義？ (A)個人努力促成社會改革 (B)民間團體監督政府施政 (C)政府制定法律確實執行 (D)傳播媒體呼籲政府改革。
122. ()中西文化有相當的差異，西方人每年在耶誕節時會全家團聚一起，而中國人在清明節時會全家掃墓祭祖，表達慎終追遠之意。上述內容為何種社會規範的差異？ (A)風俗習慣 (B)倫理道德 (C)法律 (D)宗教信仰。
123. ()和銘瀏覽網站時看到一則貼文，如下所示：

百貨公司舉辦異國美食展，展出的美食有：臺灣蚵仔煎、韓國海鮮煎餅、日本鮭魚壽司、德國豬腳、義大利肉醬麵、美國漢堡，南洋肉骨茶麵等，歡迎民眾前往參觀選購。

貼文內容凸顯下列何種文化特性？ (A)普遍性 (B)差異性 (C)累積性 (D)制約性。

124. ()人類生活裡各個層次上的社會現象之改變，是指下列哪項概念？ (A)社會化 (B)社會互動 (C)社會變遷 (D)社會規範。
125. ()以下是老師講述社會福利政策時提到的內容——

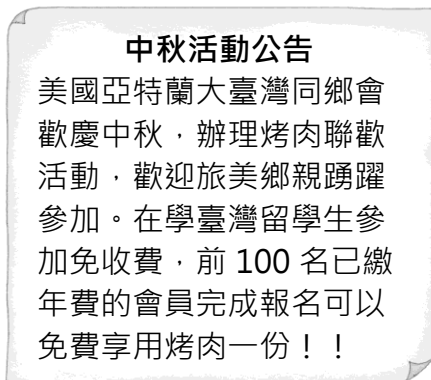


上述所指的應是下列何種社會福利政策？ (A)福利服務 (B)社會救助 (C)社會住宅 (D)社會保險。

126. ()文化是人類為求生存，適應或改變環境所創造的一切生活方式的總稱。依此判斷，下列何者屬於文化？ (A)北極的冰山與北極熊 (B)澳洲的無尾熊與袋鼠 (C)大雨過後天空中的彩虹 (D)臺南市安平熱蘭遮城遺址。
127. ()在現今社會中，人民可以依自由意願組成或參與持續運作的團體，這即是指下列何

者？ (A)聚眾集會 (B)志願結社 (C)志願服務 (D)志工。


128. ()政府充實長期照護人力與資源，在全國各縣市皆設有「長期照顧管理中心」，確保有需要的民眾能得到適切的長期照護服務。這是何種社會福利政策？ (A)社會保險 (B)社會救助 (C)社會住宅 (D)醫療保健。
129. ()透過各種規範內容，可以讓每一個人去遵守團體中應該依循的方向，若是刻意違背，不但可能會受到他人的提醒，嚴重一點可能還必須要為自己的行為付出代價。由上述的說明可知，社會規範具有下列何種功能？ (A)建立審美角度 (B)約束個人行為 (C)促進性別平等 (D)培養互助精神。
130. ()附圖是「同鄉會」辦理聯誼活動的公告，由公告內容可知其主要是為了滿足何種需求？ (A)聯絡成員情誼 (B)達成工作目標 (C)維持社會秩序 (D)促進經濟發展。



131. ()宗教信仰通常會透過下列何者來規範信眾的行為舉止，藉此影響信眾的日常生活？ (A)戒律 (B)習慣 (C)教養 (D)法律。
132. ()在國中階段的我們，除了原本所屬的家庭、班級之外，可能會因為個人的需求及喜好，選擇加入不同的團體。依此敘述判斷，國中生林大明最不可能參加下列哪個團體？ (A)圍棋社 (B)教師會 (C)合唱團 (D)童軍社。
133. ()儀貞挺身而出為身障及聽障人士爭取和一般民眾同等的的生活權利，這樣的行為是在實踐下列何種公民德性？ (A)理性思考 (B)遵守法律 (C)充實知能 (D)捍衛正義？
134. ()「中華社會福利聯合勸募協會」是一個由民間自發組成的公益團體，希望透過「聯合勸募」合理有效的集結與分配社會善款，避免出現重複募款的情況。此類團體成立的主要目的，在於下列何者？ (A)促進國民參與政治 (B)保障成員工作權益 (C)服務社會增進公益 (D)促進社會經濟發展。
135. ()法律可以約束人類行為，並對違反法律規定者施予強制處罰，顯示法律有以下何種目的？ (A)維持社會秩序 (B)勸人行善助人 (C)啟迪內在良知 (D)以暴制暴。
136. ()請根據附圖的對話內容判斷，東東的行為缺乏下列何種公民德性，以及最可能是受到何種社會化途徑的影響？

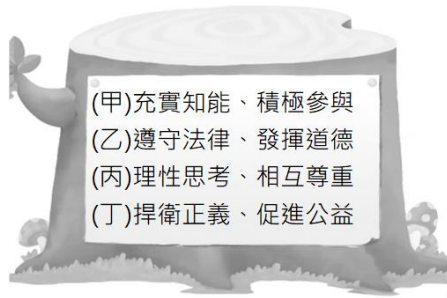
東東，你喝完的飲料瓶怎麼可以亂丟呢？

嗯～這樣很方便嘛！我看學長他們也都這樣做，應該沒關係吧？



(A)理性思考；學校 (B)發揮道德；同儕 (C)捍衛正義；學校 (D)促進公益；同儕。

137. ()有助於維持人際互動的和諧，以及維持社會的秩序與發展，應是指下列何種行為所達成的效果？ (A)參與社團運作 (B)用心熟讀書本 (C)提升經濟成長 (D)遵守社會規範。
138. ()下列何者的描述不符合公平正義精神？ (A)勤勤：每個人都能被公平的對待 (B)勞勞：每個人都有平等且有尊嚴的生存權利 (C)努姆：每個人都有一樣的薪水 (D)李學：每個人都有追求人生理想的選擇自由。
139. ()由兩個以上的個人所組成，成員間彼此互動，具有共同目標，形成一定程度的認同感，稱為下列何者？ (A)團體 (B)家庭 (C)學校 (D)社區。
140. ()品格教育希望能培養學生具備良好的品德，依此判斷，品格教育是以下列何種社會規範作為主要教授的內容？ (A)宗教信仰 (B)風俗習慣 (C)倫理道德 (D)法律。
141. ()社會發展的過程中，我們需要【甲】以穩定社會秩序。一般而言，【甲】包括法律、政策等。上述的【甲】應是指下列何者？ (A)器物 (B)制度 (C)理念 (D)自然環境。
142. ()在文化新、舊交替的變遷過程中，我們應珍視原有的□□，發揚既有的文化特色，接納其他文化，才能為我們的社會生活，注入新的活力。上述□□應為下列何者？ (A)強勢文化 (B)弱勢文化 (C)傳統文化 (D)文化位階。
143. ()下列關於「宗教信仰」的敘述，何者正確？ (A)不會受到其他文化影響而改變 (B)不會透過世代相傳而累積 (C)會隨著時代變遷而調整 (D)以強制力約束信眾。
144. ()警方大動作舉行檢肅黑幫記者會，掃蕩幫派並逮捕數十人到案，查扣多把改造槍械，以及犯案用的棍棒刀械等。上述凸顯下列何種社會規範的作用？ (A)倫理道德 (B)風俗習慣 (C)宗教信仰 (D)法律。
145. ()隨著人們對健康和環保的追求，食素或食蔬人口與日俱增，促成素食版「未來肉」的出現。因為新奇有趣，未來肉不只在素食圈造成話題，更讓許多葷食者買來嘗鮮；加上環保、對動物友善等訴求，吃未來肉甚至成了一種時尚。關於「未來肉」的出現，下列何種敘述最為恰當？ (A)是文化創新的結果 (B)是文化傳承的成果 (C)是文化資產保存成果 (D)是文化對抗後的結果。
146. ()現代公民應有的德性包括下列哪些？



(A)甲乙丙 (B)甲乙丁 (C)乙丙丁 (D)甲乙丙丁。

147. ()清達被公司派到中國工作，每 3 個月才能回臺灣一次，可是每逢過年時，他說什麼也要在除夕夜之前，趕回臺灣和家人圍爐。除夕夜圍爐是屬於下列何種社會規範？ (A)法律 (B)風俗習慣 (C)倫理道德 (D)宗教信仰。
148. ()二十世紀後的現代國家，主要是以何種方式保障人民權益？ (A)利用宗教力量 (B)結合地方富人 (C)宗教組織施捨 (D)制訂福利政策。
149. ()黑幫是指獨立於社會規範的組織，收入來源涉及暴力、色情和毒品等犯罪行為。依我國相關法規，下列敘述何者正確？ (A)組織黑幫是《世界人權宣言》保障的結社自由 (B)黑幫有歸屬感、共同規範，可獲政府核准成立 (C)依《組織犯罪防制條例》，其成立會受到限制 (D)黑幫可協助民眾爭取自身權益，進而制衡政府。
150. ()人人都應學習了解、欣賞，並尊重不同文化，培養下列何種胸懷，才能維持人際及族群間的和諧？ (A)歧視排斥 (B)理解包容 (C)敬而遠之 (D)強化差異。