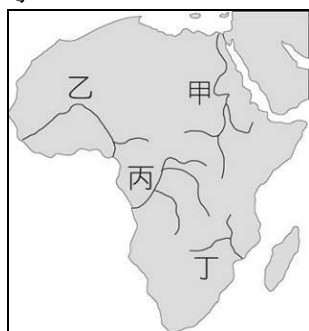


※評量範圍: 第四冊

一、單題

1. () 西元 2021 年適逢伊斯蘭教傳統的齋戒月，臺灣許多企業配合國際移工的進食需求，彈性調整上班時間。請問：下列哪一個國籍的移工較常有此需求？ (A) 泰國 (B) 越南 (C) 印尼 (D) 菲律賓。
2. () 東南亞地區成為世界上重要的熱帶栽培作物產地，主要是因具有下列哪些環境優勢？ (甲) 火山多，地震頻繁 (乙) 熱量足，降水豐沛 (丙) 人口多，勞力低廉 (丁) 港口多，運輸便利 (A) 甲乙 (B) 甲丙 (C) 乙丙 (D) 丙丁。
3. () 「儘管環境嚴苛，但是西亞卻有一片肥沃的平原，取水便利，物產豐饒，自古為兵家必爭之地，當地的城市巴格達曾發展成為的世界學術中心與商業貿易樞紐。」請問：上述這片肥沃的平原應為下列何者？ (A) 關東平原 (B) 印度大平原 (C) 尼羅河三角洲 (D) 美索不達米亞平原。
4. () 亞斯文高壩是非洲重要的水利工程建設，壩高 111 公尺，頂長 3,830 公尺，具防洪、灌溉與發電等功能。請問：此一水利工程位於附圖中哪條河川上？ (A) 甲 (B) 乙 (C) 丙 (D) 丁。

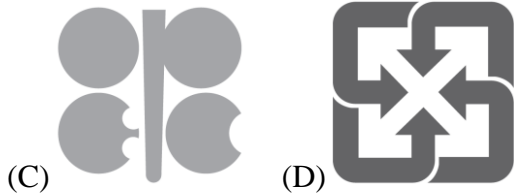


5. () 大勇查閱百科全書時看見以下的說明：「此種作物生長在沙漠地區，果實產量多，營養價值高，被稱為『沙漠麵包』，是西亞國家的重要出口農作物。」請問：大勇查閱的是哪種作物？ (A) 椰棗 (B) 橄欖 (C) 石榴 (D) 橡膠。
6. () 南非於西元 2005 年發行的紙鈔圖樣是以非洲最具代表性的五種大型哺乳動物——大象、犀牛、非洲水牛、獵豹及獅子為主角，號稱非洲五霸。若想實地觀賞這些動物，可以到下列哪一國家旅遊？ (A) 埃及 (B) 肯亞 (C) 西撒哈拉 (D) 剛果。
7. () 西亞地區水資源有限，導致國與國之間衝突不斷，如約旦與以色列曾經因爭奪約旦河水源而發生武力衝突。造成西亞水資源稀少的主要原因為何？ (A) 高壓籠罩 (B) 人口眾多 (C) 地勢高聳 (D) 降水集中。
8. () 西亞與北非位在歐、亞、非三洲交界帶，下列何者是本區與歐洲的分界？ (A) 撒哈拉沙漠 (B) 喜馬拉雅山 (C) 地中海 (D) 太平洋。
9. () 隨著產量豐收以及出口價格良好，越南的稻米出口量和營收皆超越了泰國，成為全球第二大稻米出口國。請問：越南位於附圖中哪一個地區？ (A) 甲 (B) 乙 (C) 丙 (D) 丁。




10. ()中國計畫修建從昆明通往新加坡的高鐵線路，該項目的泰國段卻因使用權、資金來源等問題而陷於停滯。請問：即使泰國不反對興建，此段高鐵路線在泰國北段也會面臨到哪一種問題而困難重重，興建難度極高？ (A)島嶼眾多 (B)山高谷深 (C)火山活躍 (D)對流雨多。
11. ()西亞的耶路撒冷是多個世界主要宗教的聖地，因此每逢重要的宗教紀念節日，總能吸引數以萬計的信徒聚集於此，但其中不包括下列哪一個宗教？ (A)印度教 (B)伊斯蘭教 (C)基督教 (D)猶太教。
12. ()南非國家運輸集團員工宣布，將在該公司營運的港口和鐵路發動罷工，使得該國貨運服務陷入停滯，將造成每天約 106.7 億元新臺幣的損失。請問：此次的罷工對該國經濟主要收入來源的哪項產業會造成巨大虧損？ (A)咖啡生產 (B)稻米種植 (C)礦產出口 (D)汽車產銷。
13. ()近年來，許多外資企業將電子代工廠設在越南、馬來西亞等東南亞國家，除了中美貿易戰的因素之外，還有下列何種原因？ (A)勞力較便宜 (B)糧食產量高 (C)教育素質高 (D)平原較寬廣。
14. ()東南亞位於亞洲東南部，地處十字路口，是亞洲往來大洋洲以及連接哪兩大洋的重要海上通道？ (A)太平洋、大西洋 (B)太平洋、印度洋 (C)大西洋、印度洋 (D)大西洋、北極海。
15. ()熱帶栽培業是東南亞國家產業主要發展之一，以下有關熱帶栽培業的發展敘述，何者有誤？ (A)源自於西方殖民時期 (B)需投入大量資金與勞力 (C)產品附加價值高，成為經濟主力 (D)東南亞常見如橡膠、油棕、咖啡等。
16. ()阿拉伯聯合大公國位於波斯灣沿岸，境內又以擁有帆船飯店、哈里發塔的杜拜最為聞名。請問：杜拜的金融、觀光及建築業能蓬勃發展，與阿拉伯聯合大公國開採何項資源關係密切？ (A)黃金 (B)石油 (C)鑽石 (D)鐵砂。
17. ()妙妙購買咖啡時，看到包裝上的說明：「支持小農，擺脫期貨綁架價格」、「自然農法咖啡豆」等，她想起課堂上曾經學過「國際公平貿易組織」所推動的目標，就是對人、對社會與環境的友善價值。請問：下列哪一標章可代表其意義？






18. ()非洲是一個充滿多元族群與文化的大陸，其中最早進入漠南非洲且由阿拉伯人帶來的宗教是下列何者？ (A)伊斯蘭教 (B)印度教 (C)基督教 (D)佛教。
19. ()東南亞各國在對內整合的同時，也對外拉攏合作夥伴，推動「區域全面經濟夥伴協定(RCEP)」的組織，RCEP 企圖結合周邊國家，以擴大自由貿易範圍。請問：這些周邊國家中，有哪二者位於東北亞？ (A)中國、日本 (B)日本、南韓 (C)紐西蘭、澳洲 (D)印度、紐西蘭。
20. ()十五世紀起，歐洲人在漠南非洲從事奴隸販賣活動，對於當時漠南非洲人口的最主要的影響為何？ (A)人口總數下降 (B)死亡率下降 (C)移入率上升 (D)扶養比下降。
21. ()王老師暑假到非洲某地旅遊，回國後她告訴大家：「那裡是夏雨型暖溫帶氣候，和臺北的氣候非常相似呢！」請問：王老師應該是到了下列何處？ (A)南非開普敦 (B)地中海沿岸 (C)非洲東南端 (D)幾內亞灣沿岸。
22. ()近年來，有許多來自東南亞的移工到臺灣來工作，其中部分移工經常聚集在各地的伊斯蘭教清真寺做禮拜。這些在清真寺做禮拜的移工，最可能來自下列哪一個國家？ (A)緬甸 (B)越南 (C)印尼 (D)泰國。
23. ()附圖為某處世界知名的觀光景點，被聯合國列入世界文化遺產的原始名字是「Vrah Vishnulok」，意思為「毗溼奴的神殿」，它是「高棉」古典建築藝術的最高成就代表，宏偉的建築與細緻的浮雕，讓人可從中感受昔日吳哥王朝的榮光與精彩的印度神話故事。請問：「高棉」就是今天的哪一個國家？ (A)越南 (B)寮國 (C)緬甸 (D)柬埔寨。



24. ()西亞與北非作為同一個文化區，主要是依據哪一項人文環境的同質性？ (A)經濟發展程度 (B)主要宗教信仰 (C)建築景觀特色 (D)各國官方語言。
25. ()世界各地有不同的特色，可依各種指標將世界劃分為數個地理區域。若將世界各地分成東亞文化區、西亞與北非文化區、西方文化區等，其主要依據的指標為下列何者？ (A)陸塊大小 (B)氣候類型 (C)語言、宗教 (D)膚色、人種。
26. ()小睿在留學期間為研究西亞古文明，到圖書館找尋《天方夜譚》、伊斯蘭教經典《古蘭經》，他發現這兩本書的原始版本皆是以哪一種文字書寫而成？ (A)中文 (B)梵文 (C)阿拉伯文 (D)古埃及文。
27. ()部分地理環境特殊的地區常有特有的稱謂，附圖中所指的地區，其特有的稱謂最可能為下列何者？ (A)次大陸 (B)東亞橋梁 (C)歐亞陸橋 (D)世界屋脊。



28. ()西漢時張騫所通行的路線，後世歷史學者稱之為「絲路」。這條路線一路從亞洲延伸到歐洲，途中會經過一處「三洲往來的交通要道」。請問：此交通要道指的是下列哪一地區？
 (A)東亞 (B)東南亞 (C)西亞 (D)南亞。

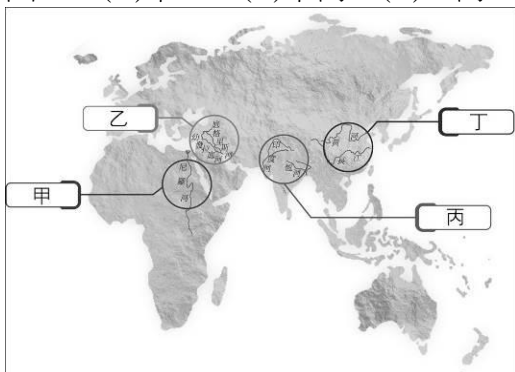
29. ()附圖為非洲游耕範圍分布圖，其分布地區與哪一條經緯線的位置最相關？ (A)本初經線 (B)北回歸線 (C)赤道 (D)國際換日線。



30. ()非洲蘊藏極為豐富的礦產資源，世界上最重要的 53 種礦產在非洲都有，如鉻、鎳、鈷、鉑、金、鈾、銅等。非洲蘊含豐富礦藏，與下列何者的關係最密切？ (A)多濃密的原始森林 (B)沙漠面積十分廣大 (C)河流侵蝕切割劇烈 (D)地層為古老結晶岩。

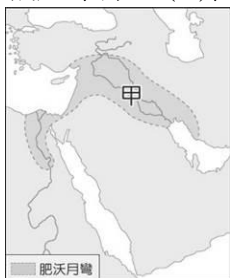
31. ()非洲的氣候帶中，面積較廣大的有雨林、莽原、乾燥三種氣候類型。請問：這三類氣候主要的劃分依據為何？ (A)人口的疏密 (B)降水量的多寡 (C)盛行風的強弱 (D)年均溫的高低。

32. ()附圖是世界四大古文明分布區，其中哪些大河文明分布區屬於西亞及北非文化區的範圍？ (A)甲乙 (B)甲丙 (C)乙丙 (D)丙丁。

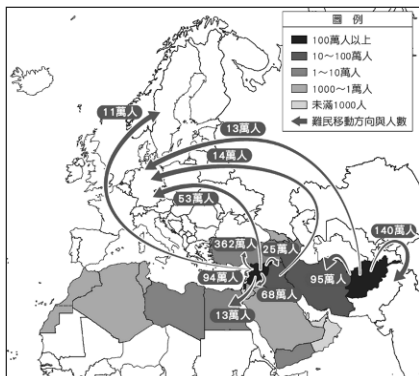


33. ()近年來，東非部分國家為改善生活，正嘗試利用國家公園發展觀光事業，這些國家公園吸引遊客的最主要條件為何？ (A)豐富的動物資源 (B)悠久的古蹟文化 (C)壯觀的海蝕地形 (D)現代的科技建設。

34. ()西元 2021 年新聞報導：「印度宗教盛事『大壺節』，在新冠肺炎(COVID-19)疫情中還是照常舉行，第一天就擁入 70 萬人朝聖，現場人山人海。大壺節的由來相傳是神明和群魔為爭奪一個裝有長生不老藥的壺而大打出手，結果把壺打翻，4 滴長生不老藥分別落到印度的 4 座城市。現今大壺節每 12 年舉辦一次，每次從這 4 座城市中擇一舉行，集會時間長達 55 天，朝聖者堅信在恆河中浸泡、清洗身體可以洗淨罪孽。聯合國教科文組織(UNESCO)將其列為世界無形的文化遺產。」請問：大壺節應是下列哪一個宗教的活動？ (A)佛教 (B)印度教 (C)基督教 (D)伊斯蘭教。
35. ()張老師參加「東非十日遊」的活動。請問：她最可能在當地拍下什麼樣的照片？ (A)野生動物在草地生活的情景 (B)摩洛哥的宏偉清真寺 (C)迦納可可農場的收成景況 (D)慶伯利礦坑礦工的工作實景。
36. ()下列哪一個國家位於太平洋與印度洋的咽喉位置，成為全球重要的航運樞紐？ (A)越南 (B)新加坡 (C)柬埔寨 (D)菲律賓。
37. ()「肥沃月彎大致包含甲區域、約旦河流經的巴勒斯坦陷落地帶至埃及東北部，因形狀像一彎新月而得名(如附圖)，因較鄰近地區灌溉水源豐富，利於農業發展，故為古文明的重要源地。」請問：上述的「甲」區域所指為何？ (A)安納托力亞高原 (B)美索不達米亞平原 (C)濃尾平原 (D)恆河平原。



38. ()漠南非洲的黑人部落文化相當具有傳統色彩，在非洲傳統部落中，最有可能見到下列何種情形？ (A)對唯一信仰的神祇進行祈禱 (B)食用青稞做成的傳統食物 (C)將崇拜的自然對象化為圖騰 (D)透過祭天盼讓寒冬早日結束。
39. ()西元 2010 年底爆發阿拉伯之春後，加上政治局勢長期動亂不安，數量激增的難民或是經濟移民，從西亞、非洲和南亞經地中海及巴爾幹半島進入歐盟國家尋求居留。附圖為西亞與北非的難民概況圖，其中多數難民來自哪一個國家？ (A)伊朗 (B)敘利亞 (C)利比亞 (D)突尼西亞。



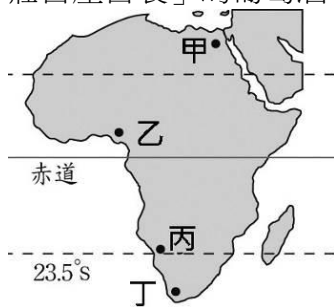
40. ()波斯灣戰爭爆發後，導致石油價格大幅上升。其起因是哪兩個國家之間的糾紛？ (A)伊拉克、科威特 (B)伊拉克、伊朗 (C)以色列、科威特 (D)伊朗、科威特。

41. ()「這個國家的菜色料理非常多元，受到中國影響而有春捲、粽子、糕點都食物，甚至廟內文字也用漢字書寫，也曾受到法國殖民，改以煉乳調味的咖啡配上加入醃蘿蔔、蔬菜以及豬肉的法國麵包，超有飽足感。」請問：文中所述是下列哪一個國家？ (A)越南 (B)印尼 (C)菲律賓 (D)馬來西亞。

42. ()西元 1990 年 8 月，伊拉克突然發動攻勢，一舉侵占了科威特，導致聯合國部隊和伊拉克之間發生戰爭。伊拉克入侵科威特的主要原因為何？ (A)民族不同 (B)宗教歧異 (C)搶奪石油礦產 (D)爭奪水資源主權。

43. ()歐洲列強殖民漠南非洲的主要目的是掠奪資源，除了煤、鐵之外，黃金、鑽石、鈾、鈷等在漠南非洲皆蘊藏豐富。請問：漠南非洲此類資源豐富的主要原因為何？ (A)瀕臨世界最大海洋 (B)地質環境較為古老 (C)位處於低緯度地區 (D)沿海有寒暖流交會。

44. ()近年來臺灣連鎖量販店陳列各國酒品，產地皆有標示。請問：若是標示「非洲當地酒莊自產自製」的葡萄酒，最有可能來自附圖中何地？ (A)甲 (B)乙 (C)丙 (D)丁。



45. ()以色列與其鄰近的阿拉伯國家，長期發生紛爭的主要因素為何？ (A)政治體制 (B)石油問題 (C)宗教信仰不同 (D)搶奪兩河流域水權。

46. ()耶路撒冷為以色列境內的一座城市，巴勒斯坦聲稱擁有主權，目前由以色列實際控制。耶路撒冷為三大宗教的聖地。附圖為耶路撒冷中的文化區分布圖，「甲」文化區應屬下列哪一個宗教的文化區？ (A)佛教 (B)基督教 (C)東正教 (D)伊斯蘭教。

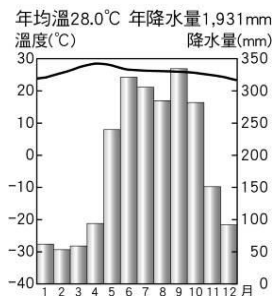


47. ()非洲為世界第二大洲，下列有關其位置的敘述，何者不正確？ (A)西濱大西洋 (B)東濱印度洋 (C)北濱地中海 (D)南濱紅海。

48. ()附圖是世界某個非政府組織所推行的標章，根據圖中內容判斷，其主要訴求最有可能為下列何者？ (A)推動公平貿易 (B)對抗愛滋病毒 (C)減少非洲饑荒 (D)協助發展教育。



49. () 附圖是越南胡志明市的氣候圖，該都市每年的降雨季節到來時，當地的主要盛行的風向為何？ (A) ↗ (B) ↘ (C) ↙ (D) ↖。

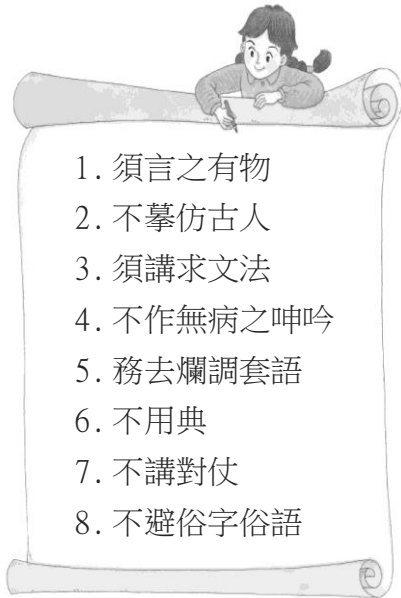


50. () 美國在西元 2018 年正式提出「印太戰略」，以與中國的「一帶一路」互別苗頭。請問：印太戰略所在的區域位在哪二大洋之間？ (A) 太平洋、大西洋 (B) 大西洋、印度洋 (C) 太平洋、印度洋 (D) 太平洋、北極海。
51. () 日本近代因軍國主義的盛行，致使其對鄰近國家採取侵略行動。下列關於日本軍國主義的敘述，何者正確？ (A) 始自大化革新後的國力迅速成長 (B) 在甲午、日俄戰爭結束後衰退 (C) 西元 1929 年的世界經濟危機強化其發展 (D) 從俄國開始侵略，並從俄南下侵略中國。
52. () 關於文化大革命的敘述，下列何者正確？ (A) 時間為西元 1960~1970 年，又稱十年浩劫 (B) 毛澤東培養紅衛兵為自身勢力，後來暗中剷除 (C) 對中國影響甚巨，人民彼此愈加信任，更加團結 (D) 文革的口號「革命無罪，造反有理」讓許多地方的年輕人紛紛響應。
53. () 中國共產黨在建國前，與中國國民黨角力了很長一段時間。請問：有關兩黨在中共建國前的互動，下列敘述何者正確？ (A) 共產黨原本與國民黨為友好關係，在西安事變後雙方再度成為仇敵 (B) 中日戰爭結束後，兩黨對於日軍戰敗歸還的土地並無爭執 (C) 中日戰爭後，國民黨仍有優勢，但因官員貪汙腐化等因素，漸失民心 (D) 為維持亞洲秩序，美國派馬歇爾進行調停，成效卓越。
54. () 一位知識分子認為，從前只需要準備文房四寶(筆墨紙硯)與《四書》，如今學校路途遙遠又需額外學費，對於偏遠的學生來說非常的不公平。這位知識分子最可能詬病的是下列何者？ (A) 白話文運動 (B) 廢除科舉 (C) 批判傳統 (D) 新思潮引進。
55. () 民國 2 年，國民黨贏得國會大選的大半席次，使袁世凱深感威脅，有傳言他密謀刺殺國民黨的實際領袖。請問：當時國民黨的領袖為何人？ (A) 梁啟超 (B) 黎元洪 (C) 宋教仁 (D) 段祺瑞。
56. () 民國 4 年，袁世凱接受該國「二十一條要求」的大部分內容，使國家的權益受到很大的傷害。請問：對袁世凱提出要求的是哪一個國家？ (A) 日本 (B) 德國 (C) 俄國 (D) 英國。
57. () 中國大陸的群眾手持小紅書《毛語錄》，同時「萬歲不離口」，這是指什麼時期？ (A) 土地改革 (B) 長征時期 (C) 大躍進 (D) 文化大革命。

58. ()西元 1911 年，四川省發生保路運動，同年 10 月 10 日革命黨人在武昌起事，揭開辛亥革命的序幕，隨後長江以南各省在立憲派與革命派的合作下，相繼宣告獨立，各省代表在南京集會，推舉誰出任臨時大總統？ (A)袁世凱 (B)宋教仁 (C)梁啟超 (D)孫中山。
59. ()面對政治腐敗、外交不振的清廷，有人發動革命、力圖恢復中華，他說道：「民族革命的緣故，是不甘心滿洲人滅我們的國，主我們的政，定要撲滅他的政府，光復我們民族的國家。」請問：此人應為下列何者？ (A)孫中山 (B)康有為 (C)梁啟超 (D)李鴻章。
60. ()西元 1971 年美國派遣乒乓球隊訪問中華人民共和國，為兩國關係破冰的關鍵。當時兩國進行體育交流的背景為何？ (A)中美兩國都有意緩和 political 緊張，改善關係 (B)美國希望與中國交換大貓熊做為展示之用 (C)美國人民希望向中國索取二戰時期的借款 (D)中華人民共和國希望美國放寬移民人數限制
61. ()維中在《中國近代史漫畫集》中看到一張漫畫。由漫畫內容判斷，這張漫畫最可能放在下列哪個章節？ (A)國共內戰的爆發 (B)文化大革命的衝擊 (C)西安事變的影響 (D)大躍進的實施。



62. ()民國初年，《新青年》雜誌出刊，引進許多新思潮。此雜誌的創辦者是何人？ (A)魯迅 (B)蔡元培 (C)陳獨秀 (D)胡適。
63. ()歷史課時，老師在黑板寫了幾個標題：「盧溝橋事變」、「南京大屠殺」及「珍珠港事變」。請問：老師今天上課的主題應為下列何者？ (A)一次大戰 (B)北伐統一 (C)五次剿共 (D)中日戰爭。
64. ()胡適是新文化運動的重要人物，以下哪一件事蹟是他的作為？ (A)創辦《青年雜誌》 (B)著名作品是《狂人日記》 (C)擔任北京大學校長 (D)提倡使用標點符號。
65. ()國民政府以武力肅清軍閥勢力後，積極展開治理與各項建設工作，為解決國家尚無根本大法的法源困境，擬定了哪一部法案作為因應？ (A)臨時約法 (D)憲法草案 (C)中華民國憲法 (D)中華民國訓政時期約法。
66. ()真真看到一張民國初年的宣傳單，如附圖所示。這張宣傳單內容的作者曾經發表〈文學改良芻議〉，大力推動白話文運動。請問：此位作者應該是下列何者？ (A)胡適 (B)梁啟超 (C)張學良 (D)蔡元培。



67. () 中華民國政府建立於西元 1912 年，中間歷經了內憂與外患，遲至西元 1947 年才頒行憲法。西元 1948 年，在國民大會的選舉下，國家終於有了第一位行憲後的總統。請問：中華民國的第一任臨時大總統與行憲後的首任總統分別為何人？ (A) 孫中山、蔣中正 (B) 袁世凱、蔣中正 (C) 孫中山、李宗仁 (D) 袁世凱、李宗仁。
68. () 張學良率領東北軍遠離東北，最後引發了西安事變。東北軍為何要背離家鄉，離開東北？ (A) 為了國共的合作 (B) 張作霖被日人炸死 (C) 日本發動九一八事變 (D) 參與清黨。
69. () 下列何者不是「黃金十年」期間，國民政府的建設成果？ (A) 提倡白話文 (B) 廢兩改元 (C) 法幣政策 (D) 收回關稅自主權。
70. () 國民黨討袁運動失敗後，袁世凱脅迫國會選舉他為正式大總統，繼而解散國會，並廢止下列哪一個法律，成為大權獨攬的統治者？ (A) 《憲法》 (B) 《臨時約法》 (C) 《三民主義》 (D) 《刑法》。
71. () 如圖是一位領導人物所推動的事項，圖中的資訊應該與下列何者有關？ (A) 蔣中正計畫在臺灣實施經濟建設 (B) 毛澤東計畫實施「大躍進運動」 (C) 蔣經國推行十年建設 (D) 蔣中正在黃金十年的積極建設。
- | |
|---|
| <ol style="list-style-type: none">1. 超英趕美。2. 提高農村勞動力。3. 提高鋼鐵產量。..... |
|---|
72. () 附圖是某一時期知識分子積極提倡的觀念，認為唯有透過這些新觀念，才能帶給國家新的刺激，挽救國家的困境。當時知識分子所推動的變革應該是下列何者？ (A) 戊戌變法 (B) 立憲運動 (C) 庚子後新政 (D) 新文化運動



73. ()民初，新知識分子認為中國必須進行思想與文化的變革，因而提倡新文化運動。下列有關新文化運動的敘述何者正確？ (A)白話文學興起，新式標點符號逐漸流行 (B)引進西方復古思潮 (C)支持儒家文化，保護傳統風俗 (D)學習西方民主，反對共產勢力的擴張。
74. ()一九六〇年代後期以來，中國與蘇聯因為思想與政策方針歧異，關係逐漸疏離，而美國卻藉機拉攏中共，最後雙方建立外交關係。請問：中華人民共和國與美國建交時的中共領袖是何人？ (A)毛澤東 (B)鄧小平 (C)江澤民 (D)胡錦濤。
75. ()東南亞公約組織(Southeast Asia Treaty Organization，縮寫為 SEATO)，簡稱「東約組織」，成立於西元 1954 年，總部設在泰國曼谷，是一個集體防衛組織。請問：美國成立「東約組織」的目的為何？ (A)抵抗日本帝國的侵略 (B)對抗亞洲的共產主義勢力 (C)東南亞殖民地的管理 (D)協助東南亞的經濟建設。
76. ()中華人民共和國有「十一長假」，又稱黃金週。每逢十一長假，新聞總是大幅報導對岸的旅遊盛況。請問：「十一長假」的由來是什麼？ (A)慶祝辛亥革命 (B)慶祝中國共產黨成立 (C)慶祝抗戰勝利 (D)慶祝中華人民共和國成立。
77. ()民國 4 年《青年雜誌》創刊(後改名為《新青年》雜誌)，對知識分子產生很大的影響，關於這本雜誌的敘述何者正確？ (A)最初由胡適創辦，陳獨秀等撰文附和 (B)極力批判西方流行的新思潮 (C)揭開新文化運動的序幕 (D)以刊載文言文的文章居多。
78. ()中國某個時期出現「人人有飯吃，人人有工作」的口號，大部分地區都呈現出集體工作，集體吃飯的情景，顯現出一種看似平等的制度。請問：上述指的應該是什麼制度？ (A)土法煉鋼 (B)人民公社 (C)三七五減租 (D)土地改革措施。
79. ()中國在這個時期為了改善經濟環境落後的困境，開始優先重視經濟發展，大力推動經濟改革，並且設立優厚的條件，吸引外國商人進入中國投資。請問：上述應該是中國什麼時期的特色？ (A)大躍進時期 (B)改革開放時期 (C)十年建設時期 (D)文化大革命時期。
80. ()第一次世界大戰過後，中華民國以戰勝國身分參與國際會議，未料卻與另一個戰勝國利益發生衝突，以至於國內掀起諸多抗議運動。請問：當時是哪一個國家與中華民國有利益上的衝突？ (A)美國 (B)英國 (C)日本 (D)法國。
81. ()戰爭結束後，中國雖為戰勝國，但列強卻在巴黎和會上，決定將德國在山東的特權轉讓日本。請問：上文中提及的戰爭為何？ (A)一次大戰 (B)二次大戰 (C)甲午戰爭 (D)中法戰爭。
82. ()東協是東南亞 10 國的區域整合組織，但經歷多年下來，又加入了許多綜合經濟夥伴，如中、日、韓、澳、紐、印等國，我們該怎麼解釋這個趨勢？ (A)區域整合並非為了經濟 (B)

區域整合已經失去原意 (C)區域整合是全球的趨勢 (D)區域整合以軍事為目的。

83. ()約翰藍儂是知名的樂團「披頭四」成員，於一九六〇至七〇年代的影響力無遠弗屆。在近代臺灣樂團五月天曾撰寫《約翰藍儂》紀念他，其中歌詞中寫到「整個世界曾經都跟著你作夢，如今和平依然在歌曲裡頭，猜忌、戰火還跟著我一起生活」。請問：約翰藍儂當年是在反對哪一場戰爭？ (A)韓戰 (B)越戰 (C)二次世界大戰 (D)伊拉克戰爭。
84. ()大雄在歷史研討會上聽到：「這個時期的知識分子，認為只要是西方的都是好的，只要是中國的都是迂腐的、落後的，因此，全面的拋棄中國文化，並尋求澈底的西化，西方思想開始大量傳進中國……。」請問：大雄所聽到的研討會主題應該為何？ (A)中國的二次革命 (B)民初的新文化運動 (C)袁世凱與洪憲帝制 (D)黎元洪與段祺瑞的府院之爭。
85. ()中華民國參與第一次世界大戰並最終獲得勝利，當時政府希望能夠收回山東省在清帝國時期給予外國勢力的特權，因為擁有山東特權的該國為一次世界大戰的戰敗國。請問：是哪一個國家在一戰之前擁有山東省的特權？ (A)德國 (B)英國 (C)日本 (D)美國。
86. ()一份報紙記載：「國會大選的結果揭曉，結果國民黨贏得絕對的多數，使國民黨的代理理事長宋教仁掌握政治權力，袁世凱因此備感壓力，後來更發生了令人意想不到的事情，引發一場討袁行動。」請問：引發的是下列哪場討袁行動？ (A)護法運動 (B)戊戌政變 (C)二次革命 (D)武昌起義。
87. ()改革開放後，中國大陸經濟競爭力大幅提升，但也出現下列哪一種社會現象？ (A)迅速達到全民共同致富的目標 (B)區域、階級間經濟發展不平衡 (C)平均主義盛行，私有財產消失 (D)農村收入提高，大量青年返鄉
88. ()西元 1958 年，住在河南省鄉村的大毛和阿東來到人民公社吃飯，牆上貼著許多的標語：「三年超英，五年趕美」、「你是英雄咱好漢，高爐旁邊比比看，你能煉一噸，咱煉一噸半」、「肥豬賽大象，只是鼻子短，全村宰一頭，足夠吃半年」。請問：大毛和阿東當時生活在下列哪一事件發生的時期？ (A)文化大革命 (B)大躍進運動 (C)國共內戰 (D)六四事件。
89. ()飛鴻看到一張剪報，如附圖所示，剪報中的標題為「張楊昨發動對蔣兵諫」。請問：由這張剪報可知，其報導的內容應該與何事有關？ (A)北伐 (B)清黨 (C)九一八事變 (D)西安事變。



90. ()有學者指出，五四運動雖然起於□□，但要到一個月後，運動重心實際上轉移到上海，大規模的上海學生罷課、商人罷市、工人罷工行為才震撼了全國甚至於全世界。請問：□□應填上什麼？ (A)北京 (B)廣東 (C)青島 (D)南京。

91. ()民初的新文化運動中，新知識分子是當時的文化推手，而清末的何項變革則是造就新知識分子興起的原因之一？ (A)廢除科舉制度 (B)鼓吹復興傳統文化 (C)強調信仰宗教的自由 (D)大力推廣儒家思想。
92. ()北京政府發表一封公開對民眾談話的內容，文中說道：「許多學生為了山東的問題，向政府親日派的官員示威抗議，使得一些官員無辜受傷，政府希望學生能理智行動，並會將學生的訴求指示相關官員，在和會上積極的維護中國的權益……。」請問：北京政府的公開信是針對當時的什麼事件而發？ (A)二次革命 (B)復辟事件 (C)五四運動 (D)護法運動。
93. ()受到清末甲午戰敗的刺激，部分人士希望透過制度的改革來挽救晚清的危局，但亦有人主張用武力手段推翻清廷，建立共和體制。當時進行革命推翻清廷，以下列何人為代表？ (A)袁世凱 (B)梁啟超 (C)孫中山 (D)康有為
94. ()「為了鎮壓四川的保路抗爭，清廷調動部分湖北新軍進入四川，革命黨人遂趁防務空虛之際，一舉成功的發動了武昌起義。」請問：上述起義發動時，正值何年？ (A)甲午年 (B)乙未年 (C)庚子年 (D)辛亥年。
95. ()中國國民黨是中華民國主要的政黨之一，在民國 12 年至 17 年間，中國國民黨與中國共產黨有著合作和對抗的關係。下列為國共合作與對抗的大事件：(甲)武漢國民政府親共、容共 (乙)孫中山主張聯俄容共 (丙)蔣中正決定清共並在南京另立政府 (丁)武漢國民政府反共後併入南京國民政府。若依事件發生的先後順序排列，何者正確？ (A)乙甲丙丁 (B)乙丙甲丁 (C)乙丁丙甲 (D)丁甲丙乙。
96. ()下列何者是新文化運動主要引介和推行的觀念，影響民初社會甚巨？ (A)君主立憲 (B)民主與科學 (C)公有共享 (D)師夷長技以制夷。
97. ()孫中山在十九世紀末於檀香山聯合華僑成立了第一個革命團體「興中會」，並於次年在香港成立總會，正式走上了號召群眾，推翻滿清的道路。請問：孫中山的上述行動，是鑑於清廷在哪一場戰爭的失敗而展開？ (A)甲午戰爭 (B)英法聯軍 (C)清法戰爭 (D)八國聯軍。
98. ()近年來興起的讀經班強調學習中國的文言文及背誦儒家經典，請問：這種教學方式及思想在民初的哪個運動中有被強烈的批判？ (A)新文化運動 (B)護法運動 (C)洋務運動 (D)自強運動。
99. ()民國 25 年，小力爺爺居住在上海。請問：當時他應可見到下列哪些情況？ (甲)與人交易使用「銀兩」 (乙)街上男子大多蓄髮留辮 (丙)使用法幣買賣商品 (丁)國家正飽受外敵的侵擾 (A)甲乙 (B)甲丁 (C)乙丙 (D)丙丁。
100. ()一九五〇～一九六〇年代，聯合國與西方世界主要國家尚未承認中華人民共和國的政權。當時中華人民共和國在國際上主要的盟友是哪一個國家？ (A)日本，因為中日均為亞洲主要國家 (B)韓國，因為中韓尋求合作對抗日本 (C)越南，因為中越同為共產主義國家 (D)蘇聯，因為中蘇聯盟一起對抗美國
101. ()某候選人被認定論文抄襲而遭撤銷碩士學位，對此，教育部長表示，當事人如不服處分，可向教育部提出救濟，一切依法處置。上述救濟方式應為下列何者？ (A)請願 (B)調解 (C)訴訟 (D)訴願。

102. ()下列四位同學在公民課分享自己學到的法律知識，哪一位同學的說法完全正確？ (A) 喬巴 (B)羅賓 (C)娜美 (D)魯夫。

同學	說法
喬巴	當行政處分違法侵害自己的權利時，應直接提起訴訟。
羅賓	對於國稅局的補稅處分不服，應先提出訴願，不服訴願結果再提行政訴訟。
娜美	犯罪會受到刑罰處罰，但受刑人同時可提出行政訴訟，控告政府侵害人民自由權。
魯夫	酒駕不會構成犯罪，只會被警察開罰單。

103. ()《勞動基準法》規定，童工每日工作不得超過幾小時？ (A)6 (B)8 (C)9 (D)10。
104. ()下列何者是檢察官必須依法主動追究的犯罪行為？ (A)流川楓為買晚餐違規停車 (B)櫻木和晴子決定要離婚 (C)赤木在大賣場偷家庭用品 (D)三井向鄰居借錢，經鄰居追討卻不還錢。
105. ()對於法律和命令是否牴觸《中華民國憲法》，若有疑義，可以依法聲請下列何者解釋？ (A)總統 (B)立法委員 (C)司法院大法官 (D)考試委員。
106. ()行政法除了規範政府的行為之外，每個人從出生到死亡，許多行為也都會涉及行政法的適用，下列何者屬於「應適用行政法」的事件？ (A)因課業糾紛，某甲唆使某乙打傷同學 (B)駕駛人未通過警察的酒測臨檢而受罰 (C)屋主追討租屋房客所積欠的房屋租金 (D)建商要蓋房子，強制原住戶拆屋還地。
107. ()行政機關依法律授權，就執行法律的細節或方法所做的補充規定，稱之為何？ (A)條約 (B)憲法 (C)法律 (D)命令。
108. ()一間超商發生打架事件，6名少年將店員拖出店外毆打，只因為他們想購買香菸，卻被店員要求出示證件。下列敘述何者正確？ (A)店員要求少年出示證件是遵守法律的行為 (B)店員並沒有權力要求少年出示證件 (C)買菸的少年態度不佳，店員因而拒賣 (D)對於購買香菸一事，法律並無相關限制。

109. ()下列選項中的行為，哪些與行政法有關？(甲)辦理出生登記 (乙)去書店購買參考書籍 (丙)接受國民義務教育 (丁)確實繳納所得稅 (A)甲乙丙 (B)甲乙丁 (C)甲丙丁 (D)乙丙丁。
110. ()我國《憲法》保障人民的參政權，至於選舉權與罷免權的具體落實，則有賴立法院制定《公職人員選舉罷免法》加以規範。《公職人員選舉罷免法》屬於何種類型的法律？(A)命令 (B)行政法 (C)《憲法》本文 (D)《憲法增修條文》。
111. ()立晨因故與他人發生紛爭，接到一份調解通知書，下列何者最有可能是立晨發生的紛爭內容？(A)車禍損害事件 (B)殺害他人性命 (C)財物遭人竊取 (D)不服酒駕罰單。
112. ()13歲的小婷因羨慕朋友擁有最新型的手機，於是趁體育課偷走同學留在書包中的零用錢，行竊時被返回班上的同學撞見，受害學生家長獲知後決定報警處理。根據上述內容判斷，小婷最可能會受到下列何種處分？(A)罰鍰一千元 (B)拘役二十五日 (C)罰金一千五百元 (D)假日生活輔導四次。【106 教育會考】
113. ()警察取締違規事件可能會侵犯人民自由權或財產權，因此必須以《道路交通管理處罰條例》明定處罰依據。由此可見，行政機關的行政行為必須依循何項原則？(A)行政管制 (B)依法行政 (C)行政救濟 (D)行政責任。
114. ()小維針對友人對他名譽上的損害想要提出訴訟，但他不想透過檢察官，而是自行委任律師直接向法院提起訴訟。他是採用了下列何種方式？(A)公訴 (B)自訴 (C)自首 (D)告發。
115. ()下列何者所述內容與行政法無關？(A)美惠 (B)碧珠 (C)于庭 (D)欣樺。

人物	講述內容
美惠	低收入戶向政府申請社會救助。
碧珠	身心障礙者向政府申請生活補助。
于庭	出車禍向保險公司申請意外險的理賠。
欣樺	新生兒父母向公司申請育嬰留職停薪。

116. ()受到法院監護宣告的人，在《民法》上的行為能力屬於下列何者？(A)完全行為能力人 (B)限制行為能力人 (C)無限行為能力人 (D)無行為能力人。
117. ()附圖是阿布在公民與社會課教到「犯罪與刑罰」時所做的筆記，但其中一處他剛好分心沒聽到老師的說明，請依照筆記內容，幫阿布找出空格中的正確答案。

【 】原則：

1. 國家行使刑罰權時須遵守的原則。
2. 強調犯罪和處罰都須有法律明文規定。
3. 《刑法》的最高原則。

(A)權力分立 (B)監督制衡 (C)罪刑法定 (D)以暴制暴。

118. ()我國政府制定下列何種法律，以防制兒童及少年遭受任何形式之性剝削，規定主管機關應提供必要的保護、安置或其他協助？ (A)《勞動基準法》 (B)《性別平等教育法》 (C)《兒童及少年福利與權益保障法》 (D)《兒童及少年性剝削防制條例》。

119. ()檢察官代替國家偵查犯罪、提起公訴，以及執行刑事的判決等。檢察官隸屬於中央哪一個體系？ (A)司法院 (B)行政院 (C)監察院 (D)立法院。

120. ()《刑法》的內容主要包含下列哪些要點？ (A)甲丙 (B)甲丁 (C)乙丙 (D)乙丁。

甲、政府職權

乙、何種行為構成犯罪

丙、人民基本權利

丁、犯罪行為如何處罰

121. ()憲法主要用以確立國家的目的、方向，以及人民的基本權利及義務，所以條文通常簡明扼要。上述指出憲法的何種特性？ (A)最高性 (B)穩定性 (C)原則性 (D)單一性。

122. ()曉婷正在區分《刑法》責任能力的年齡。請問：附表中她所填入的內容，何者正確？

	年齡	《刑法》責任能力
小康	15 歲	屬完全責任能力人
阿軒	17 歲	屬限制責任能力人
大玲	19 歲	屬限制責任能力人
阿富	81 歲	屬無責任能力人

(A)小康 (B)阿軒 (C)大玲 (D)阿富。

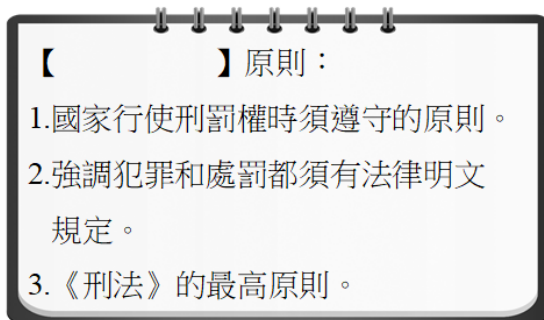
123. ()每一項法律都有其主要的規範目的與責任。請問：《刑法》是規範什麼的法律？ (A)各種重要的基本人權 (B)政府與人民之間的關係 (C)構成犯罪的行為與處罰 (D)各種常見的行政糾紛。

124. ()阿光向虎哥經營的地下錢莊借錢，由於借款利息太高，以致阿光無法償還。虎哥討債不成，便將阿光打成重傷，阿光忍無可忍決定報警處理。最後法官判定虎哥傷害罪成立，依法虎哥最可能會受到何種處罰？ (A)拘留 (B)罰鍰 (C)勒令 (D)有期徒刑。

125. ()若以法律位階而言，圖中的甲、乙、丙，由上到下依序排列應為下列何者？ (A)法律、命令、憲法 (B)法律、憲法、命令 (C)憲法、法律、命令 (D)命令、法律、憲法。



126. ()下列哪一種生活中的紛爭，可以用調解的方式來解決？ (A)民事案件 (B)釋憲爭議 (C)所有刑事案件 (D)非告訴乃論的刑事案件。
127. ()指一個人能獨立行使有效法律行為的能力，稱為下列何者？ (A)行為能力 (B)經濟能力 (C)責任能力 (D)溝通能力。
128. ()下列何人的行為是檢察官無法主動追究的犯罪行為？ (A)淨漢打籃球時不小心撞到同學，使同學跌倒受輕傷 (B)圓佑酒醉時把朋友推落懸崖，使朋友重傷不治 (C)珉奎在便利商店隨機竊取商品 (D)勝寬因分手心情不好，縱火洩憤造成傷亡。
129. ()「民事責任」是違反下列何種法律時，所應負的法律責任？ (A)《憲法》 (B)《民法》 (C)《刑法》 (D)《行政法》。
130. ()羅委員剛和其他委員討論、表決通過一項法律修正案。根據上述內容判斷，他應是服務於下列哪個機關？ (A)考試院 (B)司法院 (C)立法院 (D)行政院。
131. ()下列關於行政法的敘述，何者完全正確？ (A)行政法是一部專屬的法典 (B)泛指國家與人民間的一切權利義務關係 (C)是行政機關執行職務時適用的法令 (D)與人民的生活並沒有太大關係。
132. ()下列何種救濟方式，在法律上較不具效力？ (A)自力救濟 (B)訴訟 (C)訴願 (D)調解。
133. ()附圖是阿布在公民與社會課教到「犯罪與刑罰」時所做的筆記，但其中一處他剛好分心沒聽到老師的說明，請依照筆記內容，幫阿布找出空格中的正確答案。



- (A)權力分立 (B)監督制衡 (C)罪刑法定 (D)以暴制暴。

134. ()電視新聞經常報導有詐騙或人蛇集團利用「瘡啞人」進行犯罪，其原因主要是下列何

者？ (A)瘖啞人無法指認幕後主謀 (B)瘖啞人為無責任能力人 (C)瘖啞人為完全責任能力人 (D)瘖啞人為限制責任能力人。

135. () 依照我國法律的規定，代表國家追訴犯罪及主動偵查並提起公訴的人員為以下何者？ (A)警察 (B)法官 (C)檢察官 (D)被害人。

136. () 下列何種說法，符合「罪刑法定」的精神？ (A)任何人在行使權利或履行義務時，不能為了圖利自己而犧牲他人的利益 (B)法律必須因應時空環境的變遷而有所調整 (C)行為之處罰，以行為時之法律有明文規定者為限 (D)法律規範人民的權利義務。

137. () 檢察官依偵查結果認為有犯罪嫌疑時，向法院提起下列何者？ (A)告發 (B)自訴 (C)公訴 (D)自首。

138. () 議員指出，雖然西元 2019 年臺灣同性婚姻已合法化，但當年僅限臺灣籍伴侶，跨國同性伴侶只能以登記遭拒、【甲】失敗，再經【乙】判決勝訴才能登記。直到 2023 年 1 月，內政部始正式發函各縣市政府，未來跨國伴侶適用《涉外民事法律適用法》第 8 條規定，准予結婚登記。上述【甲】、【乙】應為下列何者？ (A)甲：請願，乙：民事訴訟 (B)甲：和解，乙：行政訴訟 (C)甲：訴願，乙：行政訴訟 (D)甲：訴願，乙：民事訴訟。

139. () 小玲收集公民課資料時，在網路上看到一句話：

「某國家明文規定，法官在審理刑事案件時，須依照執政黨的思想，或在法律未明文規定之處，以執政黨的思想進行判決。該國法官在刑事案判決時，並不受近代法治國家的某項重要法律原則約束。」

請問：此重要的法律原則應是指下列何者？ (A)依法行政 (B)政治責任 (C)誠實信用 (D)罪刑法定。

140. () 「它」是人民行為的規範，人民的一切活動，都不可以違反其規定，否則會受到政府公權力的處罰。由內容判斷，文中的「它」是指下列何者？ (A)倫理道德 (B)宗教信仰 (C)法律規定 (D)風俗習慣。

141. () 青少年的身心尚未成熟，基於保護的目的，其犯罪可以減輕刑責。依據我國刑法的規定，符合減輕刑責的年齡範圍為何？ (A)12 歲以上，未滿 20 歲 (B)12 歲以上，未滿 18 歲 (C)14 歲以上，未滿 18 歲 (D)14 歲以上，未滿 20 歲。

142. () 下列關於檢察官與法官的比較，何者敘述正確？ (A)檢察官負責提起告訴，法官負責提起自訴 (B)檢察官負責偵查與追訴犯罪，法官負責公正審判 (C)法官、檢察官皆隸屬司法院，但法官在法務部，檢察官在審計部 (D)法官可主動審判案件，檢察官無法主動起訴人民。

143. () 我國《刑法》規定，對於行為的處罰，以下列何者為判斷的依據？ (A)宗教信仰 (B)倫理道德 (C)社會輿論 (D)法律明定。

144. () 《刑法》的制定在於界定國家對人民執行刑罰權的範圍，作為國家用來處罰犯罪者的

依據。請問：下列何者並非國家制定《刑法》的目的？ (A)展現國家統治權 (B)保障人民權利 (C)維護社會秩序 (D)追求公平正義。

145. () 佳佳向朋友購買了一組化妝品，收到東西後卻故意拖延不付款，請問這時朋友可要求佳佳負擔何種民事責任？ (A)罰金 (B)有期徒刑 (C)債務不履行的損害賠償 (D)毀損他人財物的損害賠償。

146. () 發生刑事案件時，偵查人員蒐集、鑑定相關證據，並研判嫌疑人的心態、動機等，以呈現犯罪事實，其目的在提供下列何人作為「起訴」的依據？ (A)法官 (B)檢察官 (C)律師 (D)警察。

147. () 阿軒在某網站上看到一句話：

「行為當下，法律並未規定這行為為構成犯罪，即便行為違反道德或其他規範，國家也不能將其視為犯罪行為加以處罰。」

請問：上文內容應是下列哪一個概念的敘述？ (A)誠實信用原則 (B)罪刑法定原則 (C)無罪推定原則 (D)法治政治。

148. () 暑假期間學生出遊機會大增，部分青少年尚未考取駕照便騎車上路；根據統計，未滿18歲無照駕駛者常見的違規行為，包括闖紅燈、超速、逆向行駛等，顯見青少年除了不熟悉交通安全規則，也缺乏防禦駕駛的觀念，若是影響自身及用路人的安全，須承擔相關法律責任。由上文畫線部分中，可以看出青少年了解法規的重要性為何？ (A)維護自己的權益 (B)承擔應負的責任 (C)享有特定的福利 (D)促進社會的和諧。

149. () 人民的基本權利要能確實得到保障，最好的方法是將它規定在哪部法典中？ (A)《憲法》 (B)《國民教育法》 (C)《集會遊行法》 (D)《社會秩序維護法》。

150. () 廣義的法律可分為憲法、法律、命令三個層級，這是依據下列何者來區分的？ (A)條文的多寡 (B)法律的位階 (C)制定的機關 (D)是否具備強制力。